

Helmut Lindner

Elektro-Aufgaben

Band 1: Gleichstrom



31., aktualisierte Auflage



HANSER



Bleiben Sie auf dem Laufenden!

Hanser Newsletter informieren Sie regelmäßig über neue Bücher und Termine aus den verschiedenen Bereichen der Technik. Profitieren Sie auch von Gewinnspielen und exklusiven Leseproben. Gleich anmelden unter

www.hanser-fachbuch.de/newsletter

Elektro-Aufgaben

Band 1: Gleichstrom

von Studiendirektor Helmut Lindner †, Mittweida

31. Auflage

Mit 355 Bildern



Fachbuchverlag Leipzig
im Carl Hanser Verlag

Studiendirektor HELMUT LINDNER †
Bearbeiter: Univ.-Prof. Dr. HARALD LINDNER †



Bibliografische Information der Deutschen Nationalbibliothek

Die Deutsche Nationalbibliothek verzeichnet diese Publikation in der Deutschen Nationalbibliografie; detaillierte bibliografische Daten sind im Internet über <http://dnb.d-nb.de> abrufbar.

ISBN 978-3-446-45221-3

Dieses Werk ist urheberrechtlich geschützt.

Alle Rechte, auch die der Übersetzung, des Nachdruckes und der Vervielfältigung des Buches, oder Teilen daraus, vorbehalten. Kein Teil des Werkes darf ohne schriftliche Genehmigung des Verlages in irgendeiner Form (Fotokopie, Mikrofilm oder ein anderes Verfahren), auch nicht für Zwecke der Unterrichtsgestaltung – mit Ausnahme der in den §§ 53, 54 URG genannten Sonderfälle –, reproduziert oder unter Verwendung elektronischer Systeme verarbeitet, vervielfältigt oder verbreitet werden.

Fachbuchverlag Leipzig im Carl Hanser Verlag

© 2017 Carl Hanser Verlag München
Internet: <http://www.hanser-fachbuch.de>

Satz: Satzherstellung Dr. Steffen Naake, Brand-Erbisdorf
Coverconcept: Marc Müller-Bremer, www.rebranding.de, München
Coverrealisierung: Stephan Rönigk
Druck und Bindung: Pustet, Regensburg
Printed in Germany

Vorwort

Dies ist der erste Band der dreiteiligen Sammlung „Elektro-Aufgaben“.

Die Elektrotechnik spielt in der modernen Industriegesellschaft eine wichtige Rolle. Ohne ihre Beherrschung sind Information und Kommunikation, Verkehrswesen und Energiewirtschaft nicht denkbar. Voraussetzung hierbei ist, dass jeder werdende Ingenieur die Grundlagen der Elektrotechnik voll beherrscht, auf denen sich dann die einzelnen Spezialgebiete aufbauen. Um dies zu erreichen, bedarf es fleißiger Übung. Aus Raumgründen können aber meist in einem Lehrbuch nicht genügend Beispiele und Übungsaufgaben aufgenommen werden. Die vorliegende Sammlung, die in systematischer Anordnung reichlichen Übungsstoff enthält, soll diese Lücke ausfüllen helfen. Ihrem Bestimmungszweck als Hilfsmittel für Unterricht und Selbststudium entsprechen auch Gliederung und Reihenfolge der Aufgaben. Sie sind grundsätzlich so gestellt, dass sie der Lernende selbstständig und ohne zusätzliche Erläuterungen lösen kann.

Auf eine eingehendere theoretische Begründung der jeweils vorangestellten Formeln und Gesetze wurde verzichtet, da dies Angelegenheit der Lehrbücher ist. Wir verweisen in diesem Zu-

sammenhang auch auf das von Lindner, Brauer, Lehmann verfasste Lehrbuch „Taschenbuch der Elektrotechnik und Elektronik“.

Die beigelegten kurzen Hinweise und Anleitungen sollen lediglich helfen, deren Bedeutung und Handhabung ins Gedächtnis zurückzurufen.

Die den Aufgaben beigegebenen Lösungen sind durchweg als Größengleichungen formuliert. In vielen Fällen wurden auch die Zahlenwerte eingesetzt, damit der Studierende die Möglichkeit hat, die Richtigkeit seiner Ergebnisse nachzuprüfen. Die numerischen Werte wurden mit einem 8-stelligen Rechner ermittelt. Sofern Zwischenergebnisse angegeben sind, wurde mit diesen gerundeten Werten weitergerechnet. Die angegebenen Lösungen stellen in vielen Fällen nur einen Weg dar, den man gehen kann. Ebenso oft führen auch gedanklich andere Ansätze zum gleichen Ergebnis.

Für die Prüfung der Aufgaben und erforderlichen Änderungen danken wir Frau Franziska Jacob, M. A., Frau Dipl.-Ing. Franziska Kaufmann und Herrn Prof. Dr. Harald Lindner †.

Bearbeiter und Verlag

Inhaltsverzeichnis

1 Unverzweigter Stromkreis	7	5.3 Magnetisierungskennlinie	52
1.1 Berechnung von Widerständen	7	5.4 Magnetische Flussdichte, magnetischer Fluss und Streuung	54
1.2 Widerstand und Temperatur	8	5.5 Magnetischer Widerstand und das Ohm'sche Gesetz des Magnetismus	55
1.3 Stromstärke, Spannung und Widerstand . . .	10	6 Berechnung magnetischer Kreise	57
1.4 Grundstromkreis	11	6.1 Unverzweigte magnetische Kreise	57
1.4.1 Ein äußerer Widerstand an der Span- nungsquelle	11	6.1.1 Berechnung der elektrischen Durch- flutung bei gegebener magnetischen Flussdichte	57
1.4.2 Mehrere äußere Widerstände an der Spannungsquelle	13	6.1.2 Berechnung der magnetischen Fluss- dichte bzw. des magnetischen Flus- ses bei gegebener elektrischer Durch- flutung	61
1.5 Vorschaltwiderstand und Spannungsteilung	14	6.2 Verzweigte magnetische Kreise	62
1.6 Spannungsverlust und Leitungsquerschnitt .	15	6.3 Berechnung von Spulen	63
1.7 Reihenschaltung von Spannungsquellen . . .	16	6.4 Berechnung von Erregerwicklungen	65
1.7.1 Spannungsquellen mit gleicher Quel- lenspannung	16	7 Induktionsvorgänge	67
1.7.2 Spannungsquellen mit ungleicher Quellenspannung	16	7.1 Induktionsgesetz	67
2 Verzweigter Stromkreis	17	7.2 Induktivität bei konstanter Permeabilitäts- zahl	70
2.1 Zwei parallele Widerstände	17	7.2.1 Induktivität eisenfreier Spulen	70
2.2 Messung von Stromstärke und Spannung . .	18	7.2.2 Induktivität bei Anwesenheit von Ei- sen	71
2.3 Mehr als zwei parallele Widerstände	20	7.3 Induktivität von Leitungen	73
2.4 Gemischte Schaltung von Widerständen . . .	21	7.4 Gegeninduktivität und Kopplung von ei- senlosen Spulen	74
2.5 Umwandlung einer Dreieckschaltung in ei- ne Sternschaltung und umgekehrt	23	7.5 Gegeninduktivität von Freileitungen	76
2.6 Ströme und Spannungen in verzweigten Stromkreisen	25	7.6 Ein- und Ausschaltvorgänge mit Induktivi- täten	77
2.7 Mehrfache Spannungs- und Stromteilung . .	27	8 Kraftwirkungen und Energieverhältnisse des magnetischen Feldes	79
2.8 Messung von Widerständen	29	8.1 Kraftwirkung auf Stromleiter im Magnet- feld	79
2.9 Nichtlineare Widerstände	30	8.2 Energie des magnetischen Feldes	80
3 Berechnung von Netzwerken	33	8.3 Zugkraft von Magneten	82
3.1 Einzelne Netzmaschen	33	9 Elektrisches Feld	84
3.2 Geschlossene Netze	34	9.1 Elektrische Feldstärke	84
3.2.1 Berechnung nach dem Knotenpunkt- und Maschensatz	34	9.2 Elektrische Flussdichte und verschobene Ladung	85
3.2.2 Berechnung nach dem Helmholtz'schen Überlagerungssatz	36	9.3 Zusammenschaltung von Kapazitäten	86
3.2.3 Berechnung nach dem Maschenstrom- verfahren	37	9.4 Berechnung der Kapazität von Kondensa- toren	88
3.2.4 Berechnung nach dem Satz von der Ersatzspannungsquelle (Zweipol- theorie)	38	9.5 Kapazität von Kabeln und Leitungen	89
3.3 Spannungsquellen in Gegenreihenschaltung	39	9.6 Kapazitäten im geschichteten Dielektrikum	90
4 Leistung und Arbeit des Gleichstroms . .	42	9.7 Ein- und Ausschaltvorgänge mit Kapazitä- ten	91
4.1 Elektrische Leistung	42	9.8 Energie und Kräfte im elektrischen Feld . . .	92
4.2 Leistungsverlust auf Leitungen	44	Lösungen	95
4.3 Elektrische Arbeit	45		
4.4 Stromwärme	46		
4.5 Leistung in Stromkreisen	47		
5 Grundgrößen des magnetischen Feldes .	49		
5.1 Das magnetische Feld in eisenlosen Spulen	49		
5.2 Magnetisches Feld im Innern und in der Umgebung von Leitungen	50		

1 Unverzweigter Stromkreis

1.1 Berechnung von Widerständen

$$R = \frac{\rho l}{A}$$

$$R = \frac{l}{\kappa A}$$

$$G = \frac{1}{R}$$

$$\kappa = \frac{1}{\rho}$$

$$A = \frac{\pi d^2}{4}$$

Größe	Zeichen	Einheit
elektrischer Widerstand	R	Ω
spezifischer elektrischer Widerstand	ρ	$\Omega \cdot \text{mm}^2/\text{m}$ oder $\Omega \cdot \text{m}$
elektrische Leitfähigkeit	κ	$\text{S} \cdot \text{m}/\text{mm}^2$ oder S/m
elektrischer Leitwert	G	$\text{S} = 1/\Omega$
Länge	l	m
Drahtquerschnitt	A	mm^2
Durchmesser	d	mm

Spezifischer Widerstand von Kupfer bei 20°C $0,0178 \Omega \cdot \text{mm}^2/\text{m}$
 Spezifischer Widerstand von Aluminium bei 20°C $0,0286 \Omega \cdot \text{mm}^2/\text{m}$

- Welchen Gleichstromwiderstand hat eine Telefonleitung aus Kupfer von 4,5 km Länge und 4 mm Durchmesser?
- Auf einem Schiebewiderstand sind 300 m Konstantendraht ($\rho = 0,5 \Omega \cdot \text{mm}^2/\text{m}$) von 0,4 mm Durchmesser aufgewickelt. Wie groß ist der Widerstand der Wicklung?
- Eine Spule besteht aus 500 Windungen Aluminiumdraht von 0,5 mm Durchmesser. Wie groß ist der Widerstand bei einer mittleren Windungslänge von 4 cm?
- Zu einem Motor führt eine 200 m lange Doppelleitung aus Kupfer von $1,5 \text{ mm}^2$ Querschnitt. Wie groß ist der Widerstand?
- Ein Stellwiderstand hat 850 Windungen von 5 cm Durchmesser aus 0,3 mm dickem Nickelindraht ($\rho = 0,43 \Omega \cdot \text{mm}^2/\text{m}$). Wie viel beträgt der Widerstand?
- Der Heizleiter eines elektrischen Kochers besteht aus 10 m Chromnickeldraht von 0,45 mm Durchmesser ($\rho = 1,1 \Omega \cdot \text{mm}^2/\text{m}$). Wie groß ist der Widerstand?
- Welchen Widerstand hat ein aufgedampfter Dünnschichtfilm von 10 nm Dicke, 0,15 mm Breite und 0,85 mm Länge in der Längsrichtung mit dem spezifischen Widerstand $\rho = 5 \cdot 10^{-6} \Omega \cdot \text{m}$?

- (Bild 1) Die Hülle eines Bleimantelkabels hat den gezeichneten Querschnitt. Welchen Widerstand haben 50 m der Bleiumhüllung ($\rho = 0,21 \Omega \cdot \text{mm}^2/\text{m}$)?

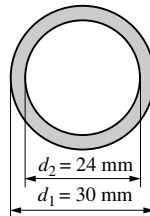


Bild 1: Aufgabe 8

- Der Durchmesser eines Zinkbandmantelkabels ($\kappa = 16 \text{ S} \cdot \text{m}/\text{mm}^2$) beträgt 1,5 cm. Welchen Widerstand haben 100 m der 0,3 mm dicken Umhüllung?
- Zwischen den beiden Platten eines Kondensators von $0,1 \text{ m}^2$ Fläche befindet sich eine 4 mm dicke Glasplatte ($\rho = 10^{10} \Omega \cdot \text{m}$). Welchen Widerstand hat die Platte?
- Zwischen zwei Metallplatten liegt eine 0,1 mm dicke PVC-Folie ($\rho = 10^{11} \Omega \cdot \text{m}$) von $12 \text{ cm} \times 15 \text{ cm}$. Wie groß ist deren Widerstand?
- Berechnen Sie die Widerstände eines Quaders aus Piezolan ($\rho = 10^{10} \Omega \cdot \text{m}$) von den Abmessungen $2 \text{ cm} \times 3 \text{ cm} \times 4 \text{ cm}$, der in den 3 ver-

schiedenen Lagen zwischen 2 Elektroden eingeklemmt wird.

13. In einem Glasrog stehen in 3 cm Abstand 2 Kupferplatten von $5\text{ cm} \times 8\text{ cm}$ in einer 10%igen Lösung von Kupfersulfat ($\kappa = 3,2\text{ S/m}$). Wie groß ist der Widerstand zwischen den Platten?

14. Welchen Widerstand hat die Zelle eines Bleiakкумуляtors: Plattengröße 1 dm^2 , Plattenabstand 8 mm? Die 20%ige Säure hat eine Leitfähigkeit von $65,3\text{ S/m}$.

15. Welche Drahtlänge ist für einen Vorschaltwiderstand von $500\ \Omega$ aus $0,4\text{ mm}$ dickem Konstantandraht ($\rho = 0,5\ \Omega \cdot \text{mm}^2/\text{m}$) erforderlich?

16. Der Konstantandraht ($\rho = 0,5\ \Omega \cdot \text{mm}^2/\text{m}$) eines Hitzdrahtstrommessers hat $0,06\text{ mm}$ Durchmesser. Welche Länge muss er haben, wenn sein Widerstand $40\ \Omega$ betragen soll?

17. Der Gleichstromwiderstand einer Telefonleitung ($\rho = 0,0178\ \Omega \cdot \text{mm}^2/\text{m}$) von 4 mm Durchmesser wird zu $9,5\ \Omega$ gemessen. Wie lang ist die Leitung?

18. Wie viel Meter Kupferdraht enthält eine Spule, die bei 1 mm^2 Drahtquerschnitt einen Widerstand von $6\ \Omega$ besitzt?

19. Wie viel Chromnickeldraht von $0,6\text{ mm}$ Durchmesser muss der Heizkörper ($\rho = 1,1\ \Omega \cdot \text{mm}^2/\text{m}$) eines Kochgerätes enthalten, wenn sein Widerstand $48,5\ \Omega$ betragen soll?

20. Auf den wievielfachen Wert steigt der Widerstand eines 2 mm dicken Drahtes, wenn er un-

ter Erhaltung der Gesamtmasse auf 1 mm Durchmesser ausgezogen wird?

21. Welchen Durchmesser hat eine 1000 m lange Freileitung aus Kupfer, deren Widerstand $1,804\ \Omega$ beträgt?

22. Eine kupferne Freileitung besteht aus 19 verdrehten Einzeldrähten und hat je Kilometer einen Widerstand von $0,194\ \Omega$. Welchen Durchmesser hat ein Einzeldraht?

23. Welchen spezifischen Widerstand hat das Material einer Freileitung, deren Widerstand je Kilometer $0,194\ \Omega$ beträgt und die aus 37 Einzeldrähten von je $2,25\text{ mm}$ Durchmesser zusammengedreht ist?

24. Welchen spezifischen Widerstand in $\Omega \cdot \text{m}$ und welche Leitfähigkeit in S/m hat eine Flüssigkeit, die zwischen zwei im Abstand von 6 mm befindlichen Elektroden von $6\text{ cm} \times 6\text{ cm}$ einen Widerstand von $0,02\ \Omega$ aufweist?

25. Zwischen den beiden Adern einer in der Erde liegenden Fernsprechleitung von $0,6\text{ mm}$ Durchmesser und 150 m Einfachlänge (Kupfer) ist Kurzschluss entstanden. Zur Bestimmung des Fehlerorts wird von der einen Seite der Doppelleitung her der Widerstand $R_1 = 10,85\ \Omega$ und von der anderen Seite her $R_2 = 13,02\ \Omega$ gemessen. In welcher Entfernung von der einen Seite befindet sich die Schadenstelle und wie groß ist hier der Übergangswiderstand?

1.2 Widerstand und Temperatur

Formeln:

Im Temperaturbereich von $-40 \dots 1000\text{ }^\circ\text{C}$ gilt näherungsweise eine lineare Beziehung zwischen ohmschem Widerstand und der Temperatur (Bild 2):

Anfangstemperatur $T_A = 293\text{ K}$

$$R_E = R_A [1 + \alpha(T_E - T_A)]$$

Anfangstemperatur $T_A \neq 293\text{ K}$

$$R_E = R_A \frac{1/\alpha + T_E - 293\text{ K}}{1/\alpha + T_A - 293\text{ K}}$$

Größe	Zeichen	Einheit
ohmscher Widerstand bei Anfangstemperatur T_A Endtemperatur T_E	R_A R_E	Ω Ω
Temperaturkoeffizient bei $T = 293\text{ K}$	α	$1/\text{K}$
Temperaturkoeffizient bei $T = 293\text{ K}$	β	$(1/\text{K})^2$
Temperaturdifferenz	$\Delta \vartheta$	K

Für größere Temperaturbereiche ist der quadratische Temperaturkoeffizient β einzubeziehen:

$$R_E = R_A [1 + \alpha(T_E - T_A) + \beta(T_E - T_A)^2]$$

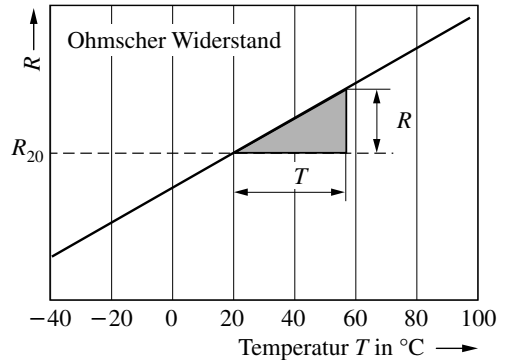


Bild 2: Widerstand und Temperatur

Hinweis:

Der Widerstand der meisten metallischen Leiter nimmt mit steigender Temperatur zu. Die angegebenen Formeln gelten nur näherungsweise.

26. Die Feldwicklung eines Elektromotors hat bei 20°C einen Widerstand von $500\ \Omega$ ($\alpha = 0,0038\ 1/\text{K}$). Welchen Widerstand hat sie im Betrieb bei 62°C ?

27. Berechnen Sie den Widerstand einer Glühlampe mit einem Wolframdraht von $0,024\ \text{mm}$ Durchmesser und $30\ \text{cm}$ Länge ($\rho = 0,055\ \Omega \cdot \text{mm}^2/\text{m}$) bei Zimmertemperatur (20°C) und im glühenden Zustand bei 2300°C . $\alpha = 0,0041\ 1/\text{K}$; $\beta = 10^{-6}\ 1/\text{K}^2$.

28. Bei welcher Temperatur verdoppelt sich der Widerstand eines Kupferdrahtes (Vergleichstemperatur 20°C , $\alpha = 0,0038\ 1/\text{K}$)?

29. Ein Vorschaltwiderstand aus Nickeldraht hat bei 20°C den Anfangswert $350\ \Omega$. Bei welcher Temperatur erreicht er den Endwert $450\ \Omega$ ($\alpha = 0,0041\ 1/\text{K}$)?

30. Welche Temperatur hat ein Heizkörper, wenn er bei 20°C einen Strom von $2,9\ \text{A}$ und im Betrieb $0,5\ \text{A}$ aufnimmt? Betriebsspannung $230\ \text{V}$ ($\alpha = 0,0041\ 1/\text{K}$)

31. Um wie viel Prozent nimmt der Widerstand eines von 20°C auf 80°C erwärmten Leiters aus Kupfer zu ($\alpha = 0,0038\ 1/\text{K}$)?

32. Auf wie viel Prozent vom ursprünglichen Wert sinkt die Stromstärke in der Wicklung eines Motors, wenn die Temperatur von 20°C auf 65°C zunimmt?

33. Der Widerstand einer Telegrafenteleleitung ($\alpha = 0,0038\ 1/\text{K}$) ist bei 8°C $1,5\ \Omega$. Bei welcher Temperatur beträgt dieser $1,55\ \Omega$?

34. Welchen Widerstand hat der Kohlefaden ($\rho = 39,6\ \Omega \cdot \text{mm}^2/\text{m}$) einer Glühlampe bei 20°C und bei Weißglut (1600°C), wenn der Faden $18\ \text{cm}$ lang und $0,6\ \text{mm}$ dick ist ($\alpha = -0,00041\ 1/\text{K}$)?

35. Welchen Widerstand hat eine Wolframlampe bei 20°C ($\alpha = 0,0041\ 1/\text{K}$), wenn sie im Betrieb (Fadentemperatur 2500°C) bei $230\ \text{V}$ einen Strom von $0,34\ \text{A}$ aufnimmt ($\beta = 10^{-6}\ 1/\text{K}^2$)?

36. Zur Bestimmung des Temperaturkoeffizienten wird ein Draht in einem Ölbad von 30°C auf 110°C erwärmt. Dabei nimmt sein Widerstand um 5% zu. Welchen Wert hat der Temperaturkoeffizient?

37. Der Wert eines Präzisionswiderstandes mit $\alpha = 5 \cdot 10^{-5}\ 1/\text{K}$ gilt für $\vartheta = 20^{\circ}\text{C}$. In welchem Temperaturbereich lässt er sich einsetzen, wenn sein Widerstand nur um $0,015\%$ schwanken darf?

38. Auf wie viel Grad Celsius steigt die Temperatur eines Eisendrahtes ($\alpha = 0,0065\ 1/\text{K}$) von anfänglich 120°C , wenn sein Widerstand um 20% zunimmt?

39. Um wie viel Prozent nimmt der Widerstand eines Bleidrahtes ($\alpha = 0,0041\ 1/\text{K}$) bei Erwärmung von 80°C auf 125°C zu?

40. Der Widerstand der Kupferwicklung ($\alpha = 0,0038\ 1/\text{K}$) eines Elektromotors beträgt bei

10°C im Stillstand 850 Ω. Wie groß ist der Widerstand, wenn sich der Motor im Betrieb auf 62°C erwärmt?

41. Welche Übertemperatur herrscht im Anker eines Motors ($\alpha = 0,0038 \text{ } 1/\text{K}$), wenn bei 20°C ein Widerstand von 12 Ω und im erwärmten Zustand von 15 Ω gemessen wurden?

42. Der Gleichstromwiderstand einer Netzdrose ($\alpha = 0,0038 \text{ } 1/\text{K}$) beträgt bei 15°C 85 Ω. Nach längerem Betrieb wurden 105 Ω gemessen. Welche Temperatur hatte die Drosselspule angenommen?

43. Bei 18°C wurde der Gleichstromwiderstand einer Transformatorwicklung ($\alpha = 0,0038 \text{ } 1/\text{K}$)

zu 153 Ω festgestellt. Nach längerer Betriebsdauer stieg der Widerstand um 34%. Welches war die Betriebstemperatur?

44. An der Feldwicklung ($\alpha = 0,0038 \text{ } 1/\text{K}$) eines Lautsprechermagneten liegt eine Spannung von 200 V, während bei 18°C ein Strom von 50 mA fließt. Im Betrieb sinkt die Erregerstromstärke auf 45 mA ab. Welche Betriebstemperatur liegt vor?

45. Je eine Metall- und Kohlefadenlampe gleicher Betriebsstromstärke sind parallel geschaltet. a) Welche von beiden Lampen leuchtet beim Anlegen der Spannung zuerst auf? b) Welche Erscheinung muss auftreten, wenn beide Lampen in Reihe geschaltet sind?

1.3 Stromstärke, Spannung und Widerstand

Formeln:

$$I = \frac{U}{R}$$

$$R = \frac{U}{I}$$

$$U = IR$$

Hinweis:

In den folgenden Aufgaben werden die Widerstände R als konstant angenommen (lineare Widerstände). Daher sind in den angeführten Gleichungen Spannung und Strom einander proportional (Ohm'sches Gesetz).

Größe	Zeichen	Einheit
elektrische Stromstärke	I	A
elektrische Spannung	U	V
elektrischer Widerstand	R	Ω

46. Welcher Strom fließt durch ein elektrisches Bügeleisen von 80 Ω bei einer Spannung von 230 V?

47. Ein Stellwiderstand von 500 Ω liegt an einer Spannung von 4,5 V. Welches ist die kleinstmögliche Stromstärke?

48. Welcher Strom fließt durch den Arbeitswiderstand von 50 MΩ eines Verstärkers, wenn die Spannung 3 V abgegriffen wird?

49. Welcher Strom fließt durch eine Spule mit 300 m Kupferdraht von 0,5 mm Durchmesser bei einer angelegten Spannung von 6 V?

50. Welcher Strom fließt durch einen Widerstand von 10 kΩ bei einer Spannung von 400 V?

51. Welchen Widerstand hat eine Glühlampe, durch die bei 230 V ein Strom von 0,474 A fließt?

52. Welchen Widerstand müssen die an 230 V angeschlossenen Geräte eines Haushalts mindestens haben, wenn die Anlage durch eine 16-A-Sicherung geschützt ist?

53. An einem Widerstand liegen 150 V. Wie groß ist dieser, wenn ein Strom von 2,5 mA fließt?

54. Wie groß ist der Widerstand eines Heißwasserbereiters, wenn bei einer Spannung von 230 V ein Strom von 12 A fließt?

55. Durch einen Fernhörer fließt bei 90 V ein Strom von 0,045 A. Wie groß ist der Widerstand?

56. Welche Spannung liegt an den Enden einer 75 cm langen Quecksilbersäule von 2 mm² Querschnitt ($\rho = 0,96 \text{ } \Omega \cdot \text{mm}^2/\text{m}$), durch die ein Strom von 1,8 A fließt?

57. Der Endausschlag eines Spannungsmessers soll 300 V bei einer Stromstärke von 0,1 A anzeigen. Wie groß muss sein Widerstand sein?

58. Ein unter Umständen schon lebensgefährlicher Strom von 40 mA fließt durch den menschlichen Körper und überwindet dabei einen Widerstand von 1 kΩ. Welche Spannung reicht hierzu aus?

59. Ein Strommesser hat einen Widerstand von $0,03 \Omega$ und zeigt im Endausschlag 6 A an. Wie groß ist die Klemmenspannung des Instruments?

60. Wie viel Meter Kupferdraht von $0,1 \text{ mm}$ Durchmesser befinden sich auf einer Spule, durch die bei einer angelegten Spannung von 10 V ein Strom von $0,06 \text{ A}$ fließt?

61. Ein aus Eisendraht ($\rho = 0,13 \Omega \cdot \text{mm}^2/\text{m}$) von $1,2 \text{ mm}$ Durchmesser gewickelter Vorschaltwiderstand soll bei einem Strom von $3,5 \text{ A}$ eine gegebene Spannung von 110 V auf 40 V herabsetzen. Wie viel Windungen muss der zylindrische Wickelkörper von 6 cm Durchmesser tragen?

62. Erhöht man die an einem Verbraucher liegende Spannung um 20 V , so nimmt die Stromstärke um 8% zu. Wie groß ist die ursprüngliche Spannung?

63. Welchen Spannungsabfall verursacht ein Widerstand von $50 \text{ k}\Omega$ bei einem Strom von $1,5 \text{ mA}$?

64. Ein Widerstand wird um 289Ω vergrößert. Dabei sinkt die Stromstärke um 2 A bei konstant

bleibender Spannung von 230 V . Wie groß ist der Widerstand?

65. Der Hitzdraht eines Messgerätes hat einen Widerstand von 1100Ω und wird von 50 mA durchflossen. Welchen Betrag hat die Heizspannung?

66. Um einen Wolframdraht von $0,1 \text{ mm}$ Durchmesser auf 3000°C zu erhitzen, ist ein Strom von $2,072 \text{ A}$ notwendig. Die erforderliche Heizspannung ist $2,43 \text{ V}$ je cm Drahtlänge. Welchen Widerstand haben 3 cm des Drahtes?

67. Ein Drehspulinstrument zeigt bei vollem Zeigerausschlag 60 mV an und hat einen inneren Widerstand von 20Ω . Welcher Stromstärke entspricht dies?

68. An der Fehlerstelle eines Elektroherdes besteht ein Übergangswiderstand von 15Ω , der Erdübergangswiderstand beträgt 30Ω . Welcher Fehlerstrom fließt bei 230 V ?

69. Welche Spannung besteht zwischen zwei 40 cm voneinander entfernten Punkten einer Kupferleitung von 1 mm Durchmesser, durch die ein Strom von 6 A fließt?

1.4 Grundstromkreis

1.4.1 Ein äußerer Widerstand an der Spannungsquelle

Formeln:

$$U_q = U_i + U_a \quad \sum U = 0$$

$$U_q = I(R_i + R_a)$$

$$R_g = R_i + R_a \quad R_g = \sum R$$

$$I = \frac{U_q}{R_i + R_a} \quad U_K = U_q - U_i$$

$$I_k = \frac{U_q}{R_i} \quad \text{für } R_a = 0$$

$$U_1 = U_q \quad \text{für } R_a = \infty$$

Größe	Zeichen	Einheit
Quellenspannung	U_q	V
innerer bzw. äußerer Spannungsabfall	U_i U_a	V
innerer bzw. äußerer Widerstand	R_i R_a	Ω Ω
Gesamtwiderstand	R_g	Ω
Klemmenspannung	U_K	V
Leerlaufspannung	U_1	V
Kurzschlussstrom	I_k	A

Hinweise:

Die Pfeilrichtung am Schaltzeichen U_q kennzeichnet die Richtung des Potenzialgefälles innerhalb der Spannungsquelle (Bild 3). Der Verbraucher R_a bewirkt einen Potenzialausgleich über den Strom I . In vielen Fällen ist der Innenwiderstand einer Spannungsquelle nicht direkt messbar, wird aber in der Schaltskizze gesondert eingetragen. In den Aufgaben wird er der Einfachheit halber als konstant angenommen.

70. Gegeben: $U_q = 4 \text{ V}$; $R_i = 10 \Omega$; $R_a = 60 \Omega$
Gesucht: I , U_i , R_g , U_K

71. Gegeben: $U_q = 4 \text{ V}$; $U_K = 3,5 \text{ V}$; $I = 0,5 \text{ A}$
Gesucht: U_i , R_i , R_a , R_g

72. Gegeben $R_i = 6 \Omega$; $R_a = 50 \Omega$; $U_K = 4,5 \text{ V}$
Gesucht: U_q , I , U_i , R_g

73. Gegeben: $I = 3 \text{ mA}$; $R_a = 50 \text{ k}\Omega$; $U_i = 2 \text{ V}$
Gesucht: U_K , U_q , R_i , R_g

74. Gegeben: $U_q = 24 \text{ V}$; $R_a = 10 \Omega$; $I = 1,5 \text{ A}$
Gesucht: R_i , U_i , U_K , R_g

75. Weshalb kann in Aufgabe 74 der äußere Widerstand beispielsweise nicht 40Ω betragen, wenn die übrigen Werte unverändert bleiben sollen?

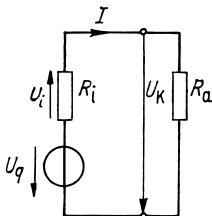


Bild 3:
Aufgaben 70 bis 79

76. Gegeben: $U_q = 30 \text{ V}$; $U_K = 28 \text{ V}$; $R_a = 15 \Omega$
Gesucht: I , R_i , R_g , U_i

77. Gegeben: $U_q = 1,5 \text{ V}$; $R_i = 6 \Omega$; $U_i = 0,2 \text{ V}$
Gesucht: I , R_a , R_g , U_K

78. Gegeben: $U_i = 2,2 \text{ V}$; $U_K = 13,8 \text{ V}$; $I = 2,5 \text{ A}$
Gesucht: U_q , R_g , R_i , R_a

79. Gegeben: $U_q = 12 \text{ V}$; $U_i = 1 \text{ V}$; $I = 0,5 \text{ A}$
Gesucht: U_K , R_i , R_a , R_g

80. Durch ein Galvanometer von $0,05 \Omega$ Widerstand mit vorgeschaltetem Widerstand von 2Ω fließt ein Strom von $0,47 \text{ A}$ aus einem Element, dessen Quellenspannung $1,1 \text{ V}$ beträgt. Wie groß sind der Innenwiderstand des Elementes und die Klemmenspannung?

81. Die Quellenspannung eines Bleiakkumulators ist $1,86 \text{ V}$, sein Innenwiderstand $R_i = 5 \text{ m}\Omega$. 12 Zellen werden in Reihe geschaltet und erzeugen im Verbraucher einen Strom von $6,55 \text{ A}$. Wie groß sind die Klemmenspannung und der Widerstand des Verbrauchers?

82. Ein verstellbarer Vorschaltwiderstand R_v soll bei gegebenem Innenwiderstand R_i der Spannungsquelle und äußerem Widerstand R_a so bemessen sein, dass sich die Stromstärke bei fester Spannung U im Verhältnis $1 : 6$ verändern lässt. Wie groß muss R_v sein?

83. Drei in Reihe geschaltete Monozellen, deren Quellenspannung je $1,5 \text{ V}$ und deren Innenwiderstand je $0,4 \Omega$ beträgt, betreiben eine Uhr mit 12Ω . Wie groß sind Stromstärke, Klemmenspannung und Gesamtwiderstand?

84. Eine Signalanlage von 25Ω Widerstand wird von drei in Reihe geschalteten Elementen von je 1 V Quellenspannung und je 4Ω Innenwiderstand gespeist. Wie groß sind Klemmenspannung, Stromstärke und Gesamtwiderstand?

85. Welchen Innenwiderstand hat eine Trockenbatterie, deren Quellenspannung $4,5 \text{ V}$ beträgt und aus der über einen Widerstand von 12Ω ein Strom von 350 mA entnommen wird?

86. Die Batterie eines Radios hat die Quellenspannung 16 V . Wenn ein Strom von 12 mA entnommen wird, beträgt die Klemmenspannung $15,8 \text{ V}$. Welchen Innenwiderstand haben die Batterie und das Gerät?

87. Die Quellenspannung einer Gleichstrommaschine beträgt 225 V . Bei Anschluss von 50 parallel geschalteten $230\text{-V}/60\text{-W}$ -Lampen wird eine Klemmenspannung von 218 V gemessen. Wie groß sind der Innenwiderstand der Maschine, der entnommene Strom und der Gesamtwiderstand der Lampen?

88. Der Innenwiderstand eines Gleichstromgenerators beträgt $3,5 \Omega$ und seine Quellenspannung 125 V . Der Gesamtwiderstand des äußeren Stromkreises beträgt 65Ω . Wie groß sind Stromstärke und Klemmenspannung?

89. Ein galvanisches Element liefert bei einem äußeren Widerstand von $R_1 = 5 \Omega$ einen Strom von $I_1 = 257 \text{ mA}$, dagegen nur $I_2 = 150 \text{ mA}$ bei einem Widerstand von $R_2 = 10 \Omega$. Welchen Innenwiderstand und welche Quellenspannung hat das Element?

90. Welchen Innenwiderstand hat eine Gleichstrommaschine, deren Quellenspannung 60 V beträgt und deren Klemmenspannung an einem äußeren Widerstand von 85Ω zu $59,5 \text{ V}$ bestimmt wurde?

91. Beim Anschluss eines $4,5\text{-V}/2\text{-W}$ -Lämpchens beträgt die Klemmenspannung einer Taschenlampenbatterie $4,3 \text{ V}$. Welchen Innenwiderstand hat die Batterie bei einer Quellenspannung von $4,5 \text{ V}$?

- 92.** Eine Taschenlampenbatterie (Quellenspannung 4,5 V) liefert bei Kurzschluss einen Strom von 5 A. Wie groß ist der Innenwiderstand?
- 93.** Wie groß sind Betriebsstrom und Innenwiderstand der Batterie eines Radios von 130 Ω , wenn deren Quellenspannung 7 V bzw. Klemmenspannung 6,5 V betragen?
- 94.** Welchen Strom würde ein Bleiakкумулятор mit der Quellenspannung 4 V und einem Innenwiderstand von 5 m Ω bei einem vollständigen Kurzschluss liefern?
- 95.** Durch eine Spannungsquelle fließt bei der Klemmenspannung 16,5 V ein Strom von 2,5 A. Bei Kurzschluss fließen 25 A. Wie groß sind Quellenspannung und Innenwiderstand?

- 96.** Der äußere Widerstand R_a verhält sich zum Innenwiderstand R_i einer Spannungsquelle wie $n : 1$. In welchem Verhältnis steht der Strom I zum Kurzschlussstrom I_k ?
- 97.** In welchem Verhältnis stehen unter den gleichen Bedingungen Klemmenspannung U_K und Leerlaufspannung U_i zueinander?
- 98.** Stellen Sie das Verhältnis I/I_k sowie U_K/U_i in Abhängigkeit von dem Verhältnis R_a/R_i grafisch dar.
- 99.** a) Von welchem Wert R_a/R_i an etwa ändert sich U_K nur noch unwesentlich?
b) Bei welchem Verhältnis R_a/R_i haben I und U_K gerade die Hälfte bzw. ein Drittel ihrer Höchstwerte?

1.4.2 Mehrere äußere Widerstände an der Spannungsquelle

- 100.** Gegeben: $R_1 = 10 \Omega$; $R_2 = 15 \Omega$; $R_i = 5 \Omega$; $U_K = 6 V$; $R_3 = 0 \Omega$
Gesucht: R_g, R_a, I, U_1, U_2
- 101.** Gegeben: $U_q = 24 V$; $R_1 = 4 \Omega$; $R_2 = 5 \Omega$; $R_3 = 10 \Omega$; $I = 0,5 A$
Gesucht: $R_g, U_1, U_2, U_3, R_i, U_i$
- 102.** Gegeben: $U_q = 24 V$; $R_1 = 10 \Omega$; $R_2 = 15 \Omega$; $R_3 = 20 \Omega$; $U_K = 23,5 V$
Gesucht: $I, U_i, U_1, U_2, U_3, R_i, R_g$
- 103.** Gegeben: $U_q = 60 V$; $R_1 = 15 \Omega$; $R_2 = 8 \Omega$; $U_3 = 20 V$; $I = 1,1 A$
Gesucht: $U_K, U_1, U_2, R_3, R_i, R_g, U_i$

ke $I_2 = 0,109 A$ gemessen wird? Der durch den Strommesser im Messbereich 0,3 A verursachte Spannungsabfall beträgt $U_A = 0,6 V$.

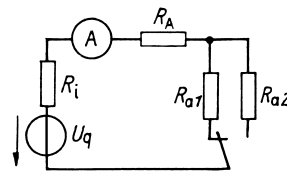


Bild 5:
Aufgabe 104

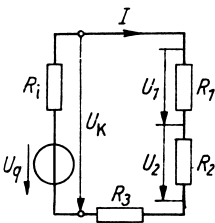


Bild 4:
Aufgaben 100 bis 103

- 104.** (Bild 5) Wie groß sind der Innenwiderstand R_i und die Quellenspannung U_q der Spannungsquelle, wenn mit $R_{a1} = 20 \Omega$ die Stromstärke $I_1 = 0,240 A$ und mit $R_{a2} = 50 \Omega$ der Stromstärke

- 105.** Zwei Spannungsmesser haben den Messbereich von je 150 V; der Widerstand des einen beträgt 2 k Ω , der des anderen 3 k Ω . Welche Spannungswerte zeigen die Instrumente an, wenn sie in Reihe an 230 V gelegt werden; und welche Gesamtspannung kann höchstens gemessen werden?
- 106.** Ein Gleichstromgenerator von 1,8 Ω innerem Widerstand speist 2 in Reihe geschaltete Heizgeräte von 14 Ω bzw. 18 Ω . Zum Anschluss dient eine Kupferleitung von 17,5 m Einfachlänge und 1,5 mm Durchmesser. An der Maschine wird eine Klemmenspannung von 215 V gemessen. Gesucht sind die Quellenspannung, die Stromstärke, der Spannungsverlust in der Leitung und die Spannung an den beiden Geräten.

1.5 Vorschaltwiderstand und Spannungsteilung

Formeln:

$$U_v = I R_v$$

$$\frac{U_1}{U_2} = \frac{R_1}{R_2}$$

$$\frac{U_1}{U_2} = \frac{l_1}{l_2}$$

$$U_1 = U \frac{R_1}{R_1 + R_2}$$

$$U_1 = U \frac{l_1}{l}$$

Größe	Zeichen	Einheit
Spannungsabfall am Vorschaltwiderstand	U_v	V
Größe des Vorschaltwiderstandes	R_v	Ω
Gesamtspannung	U	V
Teilspannungen	U_1, U_2	V
Gesamtlänge	l	m
Teillängen eines Spannungsteilers	l_1, l_2	m

Spannungsteilerregel:

Die Spannungsabfälle an zwei in Reihe geschalteten Widerständen stehen im gleichen Verhältnis zueinander wie die Beträge dieser Widerstände. Das Gleiche gilt für die Teillängen eines in zwei Abschnitte geteilten Leitungsdrahtes.

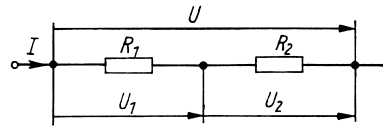


Bild 6: Widerstände in Reihenschaltung

107. Die 125-V-Lampe eines Projektionsapparates mit der Stromstärke $I = 3,5 \text{ A}$ soll an die Spannung 230 V angeschlossen werden. Hierzu ist ein Vorschaltwiderstand aus Konstantandraht ($\rho = 0,5 \Omega \cdot \text{mm}^2/\text{m}$) zu wickeln. Wie viel Draht von 1 mm Durchmesser ist dafür erforderlich?

108. (Bild 7) Ein Messinstrument, dessen Zeiger bei 5 mA voll ausschlägt, wenn am System die Spannung $U_i = 12 \text{ mV}$ liegt, soll als Spannungsmesser für die Messbereiche 15 mV, 150 mV, 1,5 V und 15 V verwendet werden. a) Wie groß ist der Innenwiderstand des Instrumentes? b) Welche Vorschaltwiderstände sind herzurichten? c) Welches sind die jeweiligen Gesamtwiderstände?

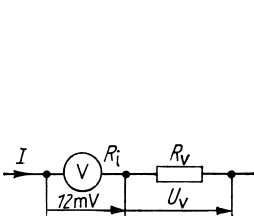


Bild 7: Aufgabe 108

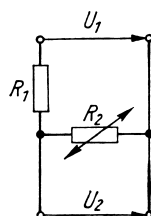


Bild 8: Aufgabe 115

109. Wenn man zu einem Spannungsmesser einen Vorschaltwiderstand von $1,94 \text{ M}\Omega$ schaltet, erhöht sich sein Messbereich von 3 V auf 100 V. Wie groß ist sein Innenwiderstand?

110. Ein Lämpchen für 3,8 V und 0,02 A soll an eine Spannung von 6 V angeschlossen werden. Welchen Wert muss der Vorschaltwiderstand haben?

111. Eine Lampe von 30 W und 6 V soll an eine Spannung von 110 V angeschlossen werden. Welchen Wert muss der Vorschaltwiderstand haben?

112. Ein Drehspulinstrument hat den Messbereich $U_i = 60 \text{ mV}$ und den Innenwiderstand $R_i = 20 \Omega$. Der Messbereich soll auf a) 1,5 V, b) 3 V, c) 15 V, d) 75 V und e) 300 V erweitert werden. Welche Vorschaltwiderstände sind erforderlich?

113. Der Spannungsabfall an einer Bogenlampe beträgt 38 V. Sie soll an eine Spannung von 65 V angeschlossen werden. Wie groß muss der Vorschaltwiderstand bei einer Stromstärke von 6 A sein?

114. Ein Spannungsteiler von 24 cm bewickelter Länge liegt an einer Spannung von 230 V. An welchen Stellen müssen die Abgriffe für 20 V, 40 V und 150 V angebracht werden?

115. (Bild 8) Der an einem Widerstandsthermometer liegende Spannungsabfall soll zwischen den Werten $U'_2 = 42 \text{ mV}$ und $U''_2 = 39 \text{ mV}$ schwanken, wenn sein Widerstand infolge von Temperaturänderungen zwischen $R'_2 = 120 \Omega$ und $R''_2 = 110 \Omega$ schwankt.

Welche Werte müssen der Festwiderstand R_1 und die Eingangsspannung U_1 aufweisen?

116. 4 Widerstände von $100\ \Omega$, $200\ \Omega$, $300\ \Omega$ und $400\ \Omega$ sind in Reihe geschaltet an eine Spannung von $125\ \text{V}$ angeschlossen. Welche 10 verschiedenen Spannungen kann man zwischen je 2 Verbindungsstellen abgreifen?

Zeichnen Sie die Spannungen in ein Schalt-schema ein.

117. Ein Potenziometer hat 350 Windungen und liegt an einer Spannung von $4\ \text{V}$. Wie viel Windungen müssen jeweils abgegriffen werden, um

die Spannung $50\ \text{mV}$, $80\ \text{mV}$, $150\ \text{mV}$ sowie $1,2\ \text{V}$ und $3\ \text{V}$ abzuzei-gen?

118. Ändert man das Teilungsverhältnis eines kalibrierten Brückendrahtes der Länge l von $l_1 : l_2 = 2 : 3$ in $4 : 5$ um, so sinkt die an l_2 abgegriffene Spannung U_2 um $10\ \text{V}$. Wie groß ist die Gesamtspannung U und welchen Betrag hat die Spannung U_2 vor und nach der Änderung?

119. Eine Heizwendel mit 500 Windungen liegt an einer Spannung von $230\ \text{V}$. Welche Spannung besteht zwischen 2 aufeinanderfolgenden Win-dungen?

1.6 Spannungsverlust und Leitungsquerschnitt

Formel:

$$U_v = \frac{2Il\rho}{A}$$

gültig für eine Doppel-(Hin- und Rück-)Leitung

120. Welchen Querschnitt muss die $35\ \text{m}$ lange Zuleitung ($\rho = 0,0178\ \Omega \cdot \text{mm}^2/\text{m}$) zu einem Elektroherd mindestens haben, wenn bei der Stromstärke $12\ \text{A}$ und der Spannung $230\ \text{V}$ ein Spannungsverlust von höchstens 3% auftreten darf?

121. In der $5,75\ \text{km}$ langen kupfernen Speiselei-tung einer Straßenbahn entsteht bei Belastung mit $85\ \text{A}$ ein Spannungsverlust von $84\ \text{V}$.

Welchen Querschnitt und Durchmesser hat die Leitung?

122. Eine $1\ 000\ \text{m}$ lange Lichtleitung ist an die Spannung $230\ \text{V}$ angeschlossen und führt zu einer Baustelle, an der ein Strom von $15\ \text{A}$ auf-genommen wird. Drahtquerschnitt $4\ \text{mm}^2$ (Kupfer). a) Welche Spannung steht am Verbrauchsort zur Verfügung? b) Auf welchen Betrag muss die Stromstärke reduziert werden, damit der Verlust nur noch $40\ \text{V}$ beträgt? c) Welchen Querschnitt müsste die Leitung haben, wenn bei $15\ \text{A}$ höchstens $40\ \text{V}$ verloren gehen sollen?

123. Mit welcher Höchststromstärke darf eine $75\ \text{m}$ lange Kupferleitung von $6\ \text{mm}^2$ Quer-schnitt belastet werden, wenn der Spannungsver-lust $2,5\%$ von $125\ \text{V}$ nicht überschreiten soll?

Größe	Zeichen	Einheit
Spannungsverlust in der Leitung	U_v	V
einfache Länge der Leitung	l	m
Drahtquerschnitt	A	mm^2

124. Ein Gehöft wird an eine $550\ \text{m}$ entfernte 230-V -Leitung angeschlossen. Welcher Leitungs-querschnitt ist mindestens zu wählen, wenn bei einer Stromstärke von $12\ \text{A}$ der Spannungsverlust höchstens 5% betragen soll a) bei Kupferleitung ($\rho = 0,0178\ \Omega \cdot \text{mm}^2/\text{m}$), b) bei Aluminiumlei-tung ($\rho = 0,0286\ \Omega \cdot \text{mm}^2/\text{m}$)?

125. Für rohrverlegte Drähte sind je $100\ \text{m}$ Streckenlänge folgende Belastbarkeiten in Anwen-dung:

	a)	b)	c)	d)	e)
Nennquerschnitt in mm^2	2,5	4	6	10	16
Belastbarkeit in A					
Kupfer $\rho = 0,0178\ \Omega \cdot \text{mm}^2/\text{m}$	21	27	35	48	65
Aluminium $\rho = 0,0286\ \Omega \cdot \text{mm}^2/\text{m}$	16	21	27	38	51

Welche Spannungsverluste ergeben sich hieraus für Doppelleitungen von je $100\ \text{m}$ Länge im Fall der Höchstbelastung?

126. Wie lang darf eine Cu-Doppelleitung von $4\ \text{mm}^2$ Querschnitt höchstens sein, wenn von der am Eingang liegenden Spannung $230\ \text{V}$ nicht mehr als 10% verloren gehen sollen (bei Höchst-belastung nach Aufgabe 125)?

127. Um wie viel Prozent nimmt der Spannungsverlust in einer Leitung zu, wenn bei gleich bleibender Stromstärke die Temperatur um 20 K steigt?

128. Aus welchem Material besteht eine 65 m lange und 3 mm dicke Doppelleitung, wenn bei

der Eingangsspannung 120 V und 5 A Belastung 2,19 % der angelegten Spannung verloren gehen?

129. Um wie viel Prozent kann eine Leitung bei gleichem Spannungsverlust verlängert werden; wenn man die Strombelastung um 30 % verringert?

1.7 Reihenschaltung von Spannungsquellen

1.7.1 Spannungsquellen mit gleicher Quellenspannung

Formel:

$$I = \frac{nU_q}{nR_1 + R_a}$$

130. Welchen Strom liefern 12 in Reihe geschaltete Monozellen von je $U_q = 1,5 \text{ V}$ und $R_1 = 1,8 \Omega$ über einen äußeren Widerstand von 25Ω ? Wie groß ist die Klemmenspannung?

131. Zehn Elemente liegen in Reihenschaltung an einem äußeren Widerstand von 25Ω . Verdoppelt man ihre Anzahl, so nimmt die Stromstärke um 48 % zu. Wie groß ist der Innenwiderstand eines Elementes?

132. Wie viel Elemente von je $1,5 \text{ V}$ und $0,9 \Omega$ sind in Reihe zu schalten, wenn sie bei einem äußeren Widerstand von 18Ω den Strom $0,52 \text{ A}$ liefern sollen?

133. Welcher Strom kann aus einer größeren Anzahl in Reihe geschalteter Elemente von je $1,1 \text{ V}$ und $0,6 \Omega$ höchstens entnommen werden?

Größe	Zeichen	Einheit
Anzahl der Elemente	n	1
Quellenspannung des Einzelelementes	U_q	V

134. Welcher Strom kann aus einer Batterie von 100 Elementen zu je $1,5 \text{ V}$ und $2,5 \Omega$ im Höchstfall entnommen werden?

135. Welcher Strom fließt aus einer Reihenschaltung von 3, 6, 9 bis 30 Elementen von je $1,5 \text{ V}$ und $2,2 \Omega$ über einen äußeren Widerstand von 30Ω ? Stellen Sie die Stromstärke in Abhängigkeit von der Zahl der Elemente grafisch dar. Welches ist die höchstmögliche Stromstärke?

136. Zehn galvanische Elemente liegen in Reihenschaltung an einem äußeren Widerstand von 40Ω . Verdoppelt man ihre Anzahl, so nimmt die Stromstärke um $0,2 \text{ A}$ zu. Wie groß ist der Innenwiderstand eines Elements, wenn die Quellenspannung $1,5 \text{ V}$ beträgt?

1.7.2 Spannungsquellen mit ungleicher Quellenspannung

137. Die folgenden 3 galvanischen Elemente liegen in Reihe an dem äußeren Widerstand 25Ω : $U_{q1} = 1,5 \text{ V}$ ($R_{i1} = 0,3 \Omega$), $U_{q2} = 1,8 \text{ V}$ ($R_{i2} = 0,25 \Omega$), $U_{q3} = 2,3 \text{ V}$ ($R_{i3} = 0,6 \Omega$).

Berechnen Sie die Stromstärke, die gesamte Klemmenspannung und die der einzelnen Elemente.

138. Die folgenden 5 galvanischen Elemente liegen in Reihe an dem äußeren Widerstand 12Ω : $U_{q1} = 2,8 \text{ V}$ ($R_{i1} = 0,08 \Omega$); $U_{q2} = 2,2 \text{ V}$ ($R_{i2} = 0,2 \Omega$); $U_{q3} = 1,8 \text{ V}$ ($R_{i3} = 0,3 \Omega$); $U_{q4} = 1,5 \text{ V}$ ($R_{i4} = 0,1 \Omega$); $U_{q5} = 1,2 \text{ V}$ ($R_{i5} = 0,05 \Omega$).

Wie groß sind Stromstärke und Klemmenspannung?

139. Berechnen Sie zu Aufgabe 138 die Leerlaufspannung und die Kurzschlussstromstärke.

140. Vier Elemente, davon 2 mit $U_{q1} = 1,5 \text{ V}$ ($R_{i1} = 0,8 \Omega$) und 2 mit $U_{q2} = 1,8 \text{ V}$ ($R_{i2} = 0,4 \Omega$), sind in Reihe geschaltet und betreiben einen kleinen Motor, der $2,4 \text{ W}$ aufnimmt. Welche Werte haben Klemmenspannung, Widerstand und Stromstärke? (2 Lösungen!)